

CRER 2023

Lamotte-Beuvron (41)

Référence :

règlement des “concours éducation routière” à vélo
de la Fédération Française de Cyclotourisme (FFVélo)

QCM sur le suivi d'un itinéraire (rando-guide) :

40 points

5 questions au niveau régional



QCM (questionnaire à choix multiples)



de type "code de la route"

L'ensemble de l'épreuve représente 40 points du CRER et est constitué de 5 diapositives (voir règlement). Chaque réponse correcte rapporte 8 points ou fait perdre 8 points du capital initial.

Pour chaque diapositive, 4 réponses sont proposées. Une seule est correcte. Sur la feuille de réponses, le concurrent doit cocher la réponse qu'il pense bonne.

Il n'y a qu'une seule bonne réponse.

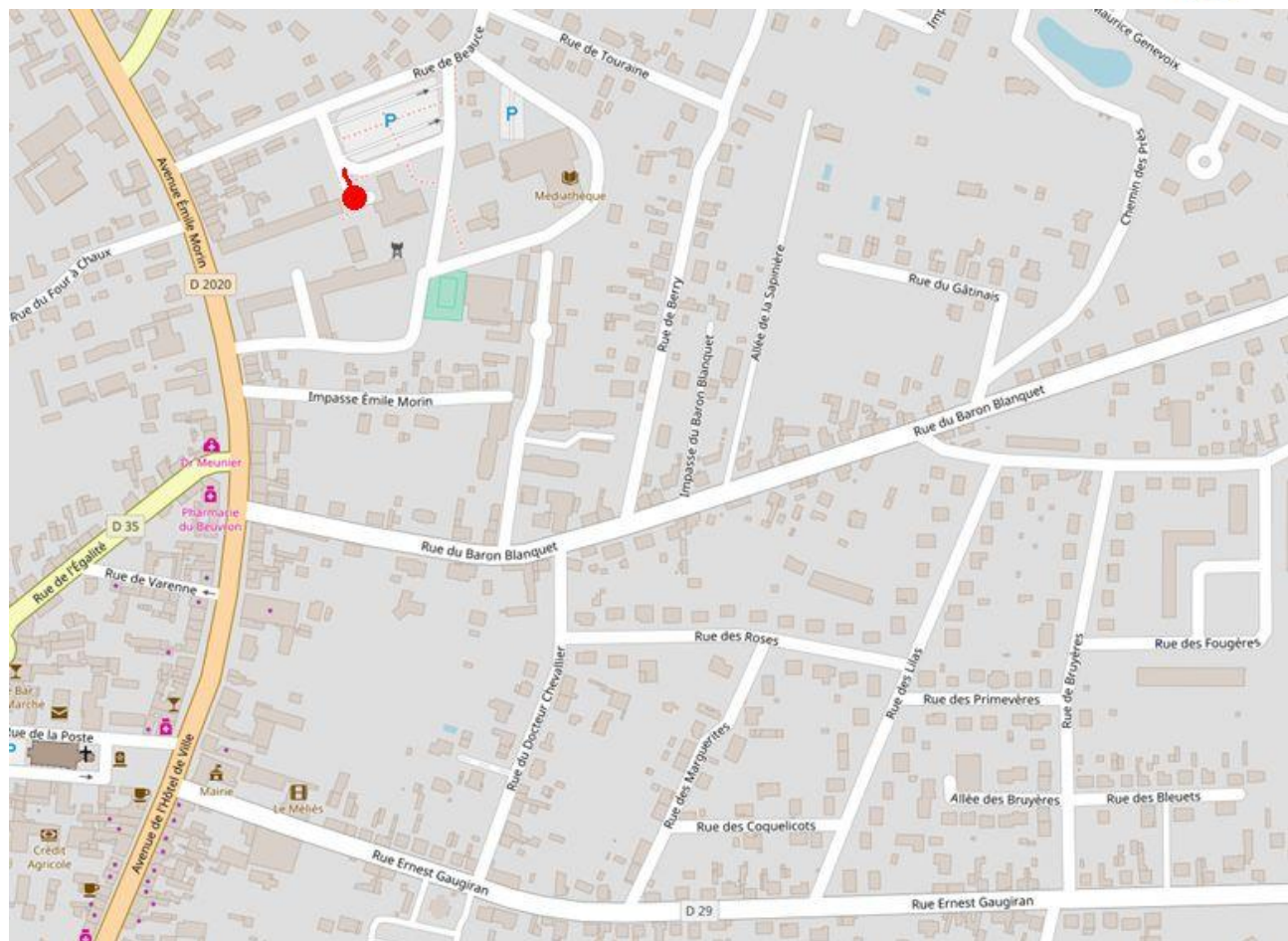
C'est au concurrent d'indiquer sur la feuille réponse, le n° de son dossard.



Extrait du règlement

Déroulement de l'épreuve

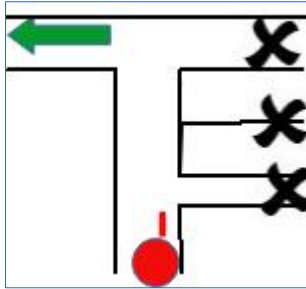
- **Chaque question est lue deux fois à voix haute par le présentateur pendant la présentation de la diapositive complète. Les jeunes participants disposent d'une minute après la 2^{ème} lecture pour répondre sur leur fiche personnelle.**
- **Cas particulier des vidéos éventuelles : le processus affichage de la vidéo suivi de la lecture/affichage de la question est présentée deux fois.**
- **Il va de soi qu'aucune aide ne peut être apportée de toute personne assistant à l'épreuve.**
- **Les réponses correctes ne seront communiquées au public qu'après la fin de l'épreuve.**
- **Article 2 Participants**
 - ⊙ Chaque jeune participe individuellement.
- **Article 10 Interdiction**
 - ⊙ Toute communication entre les participants est interdite pendant le déroulement des épreuves QCM_et vidéo.



Itinéraire 1

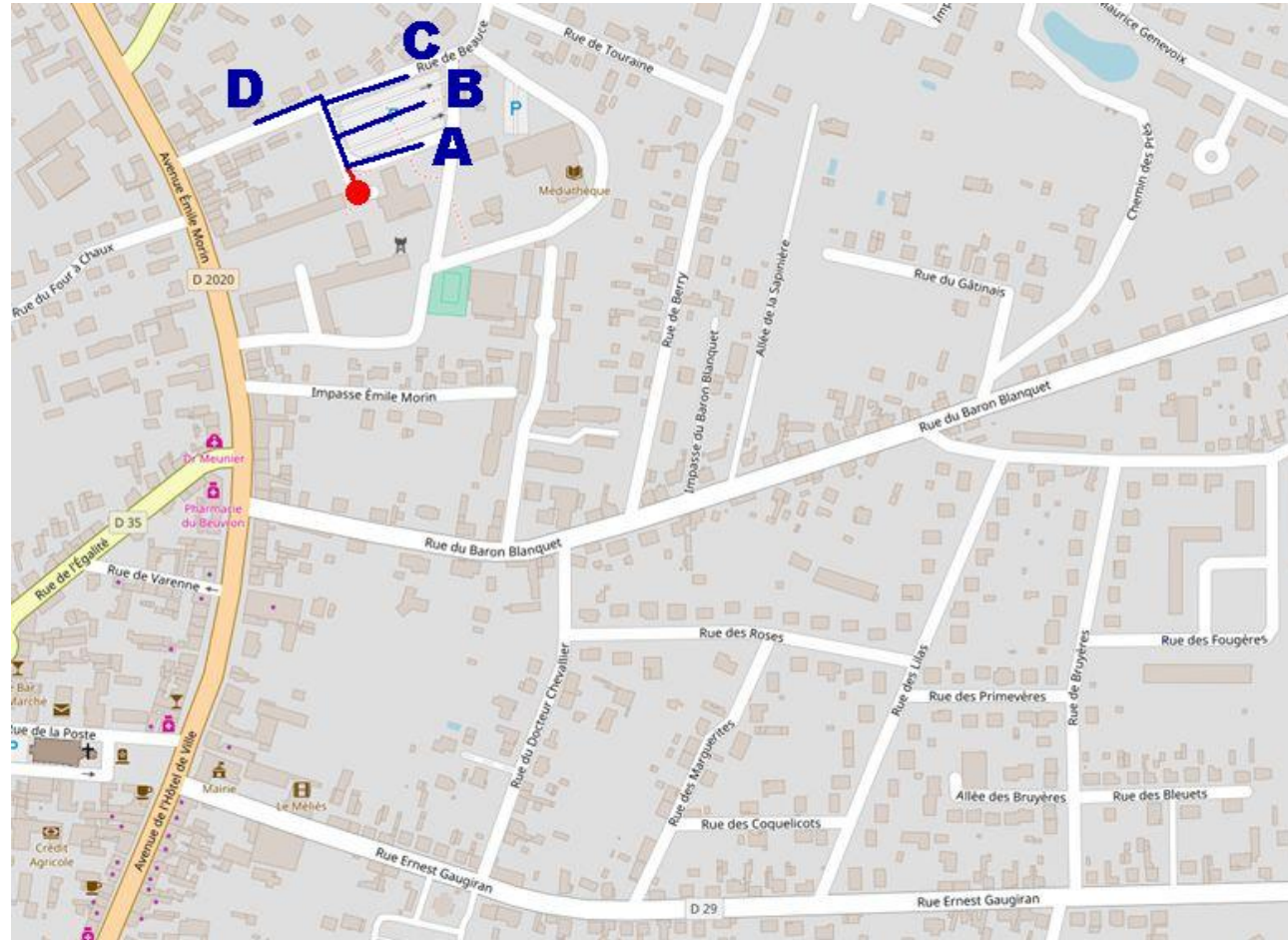


Tu es au point rouge.
Tu dois prendre la direction de la flèche verte ci-dessous.



Quel est le bon itinéraire à suivre?

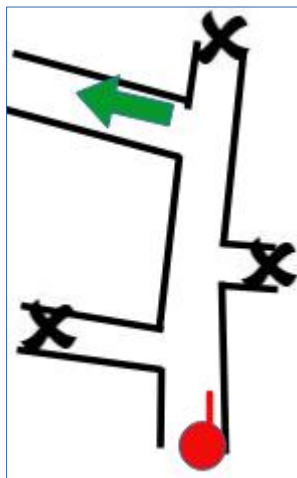
- A
- B
- C
- D



Itinéraire 2

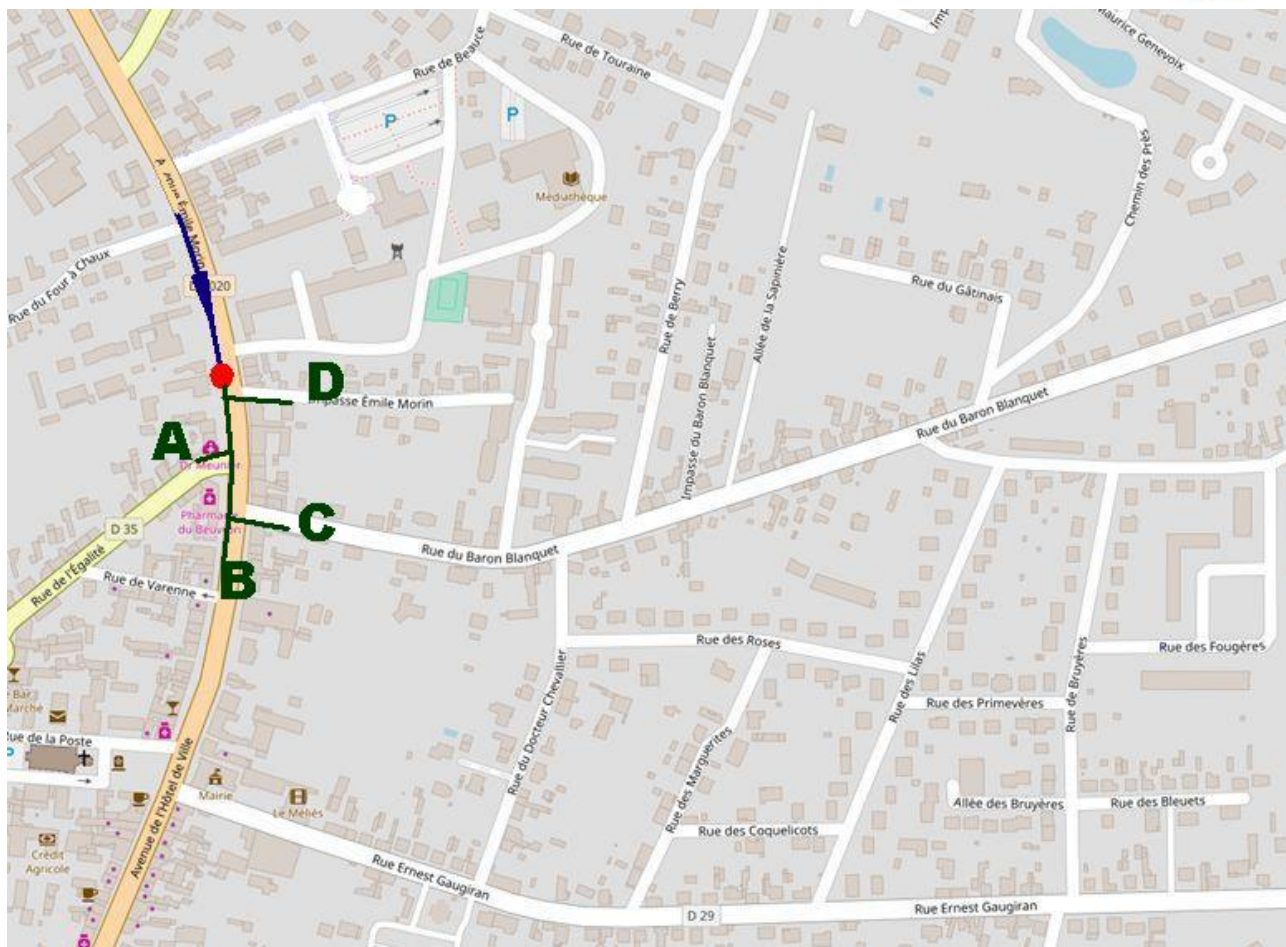


Tu es arrivé·e au point rouge par l'itinéraire bleu.
Tu dois prendre la direction de la flèche verte ci-dessous.



Quel est le bon itinéraire vert à suivre?

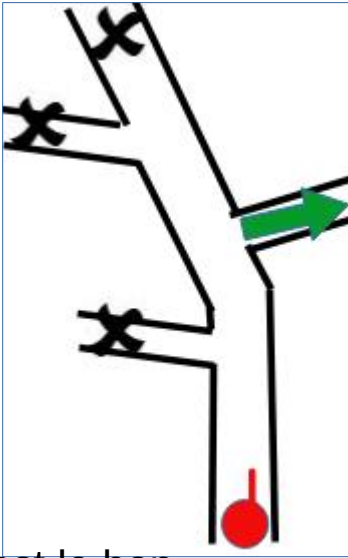
- A
- B
- C
- D



Itinéraire 3

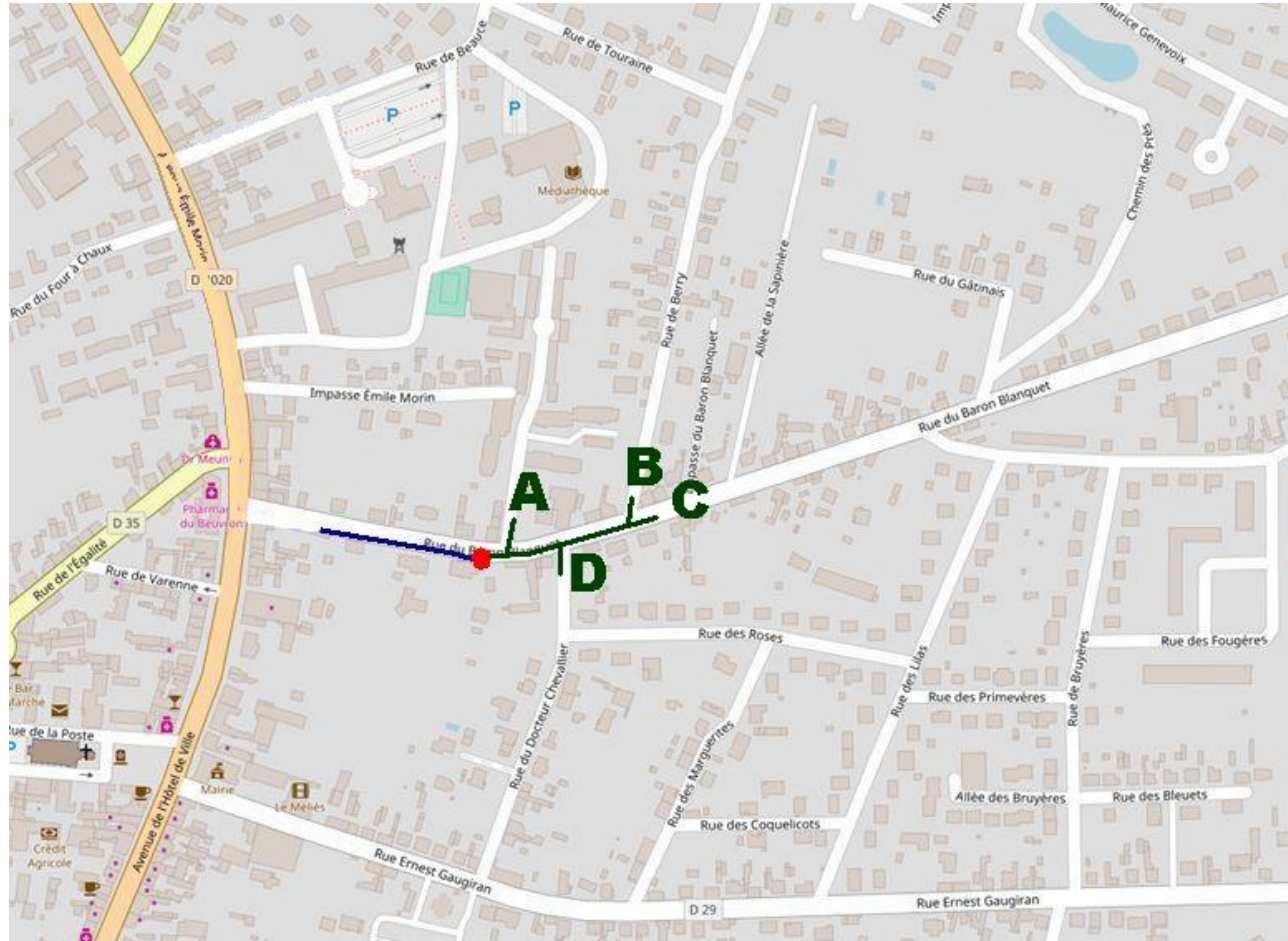


Tu es arrivé·e au point rouge par l'itinéraire bleu.
Tu dois prendre la direction de la flèche verte ci-dessous.



Quel est le bon itinéraire à suivre?

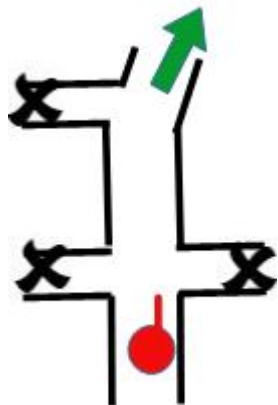
- A
- B
- C
- D



Itinéraire 4

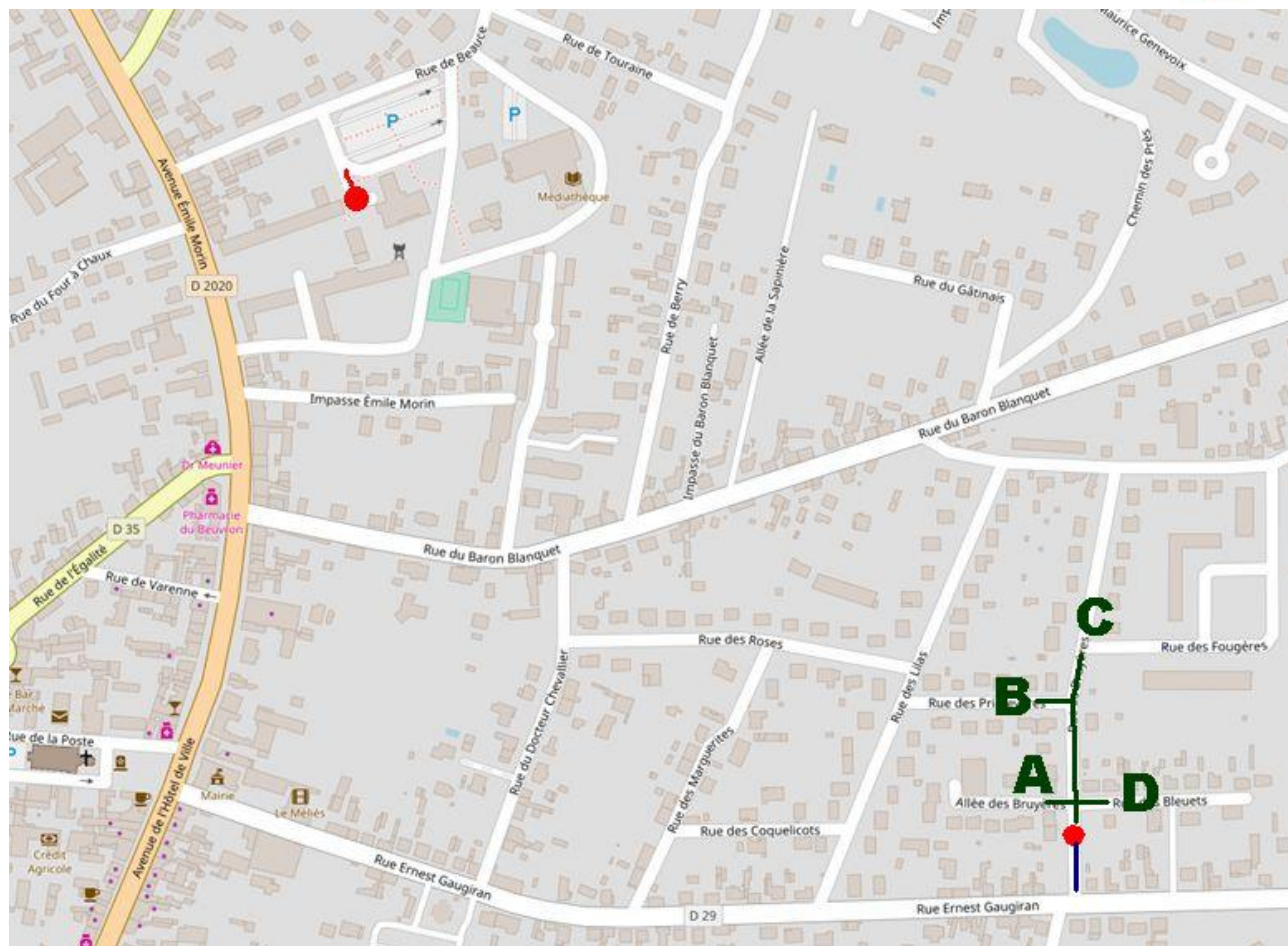


Tu es arrivé·e au point rouge par l'itinéraire bleu. Tu dois prendre la direction de la flèche verte ci-dessous.



Quel est le bon itinéraire vert à suivre?


- A
- B
- C
- D



Itinéraire 5



Tu es arrivé·e au point rouge par l'itinéraire bleu.
Tu dois prendre la direction de la flèche verte ci-dessous.



Quel est le bon itinéraire vert à suivre?

- A
- B
- C
- D

