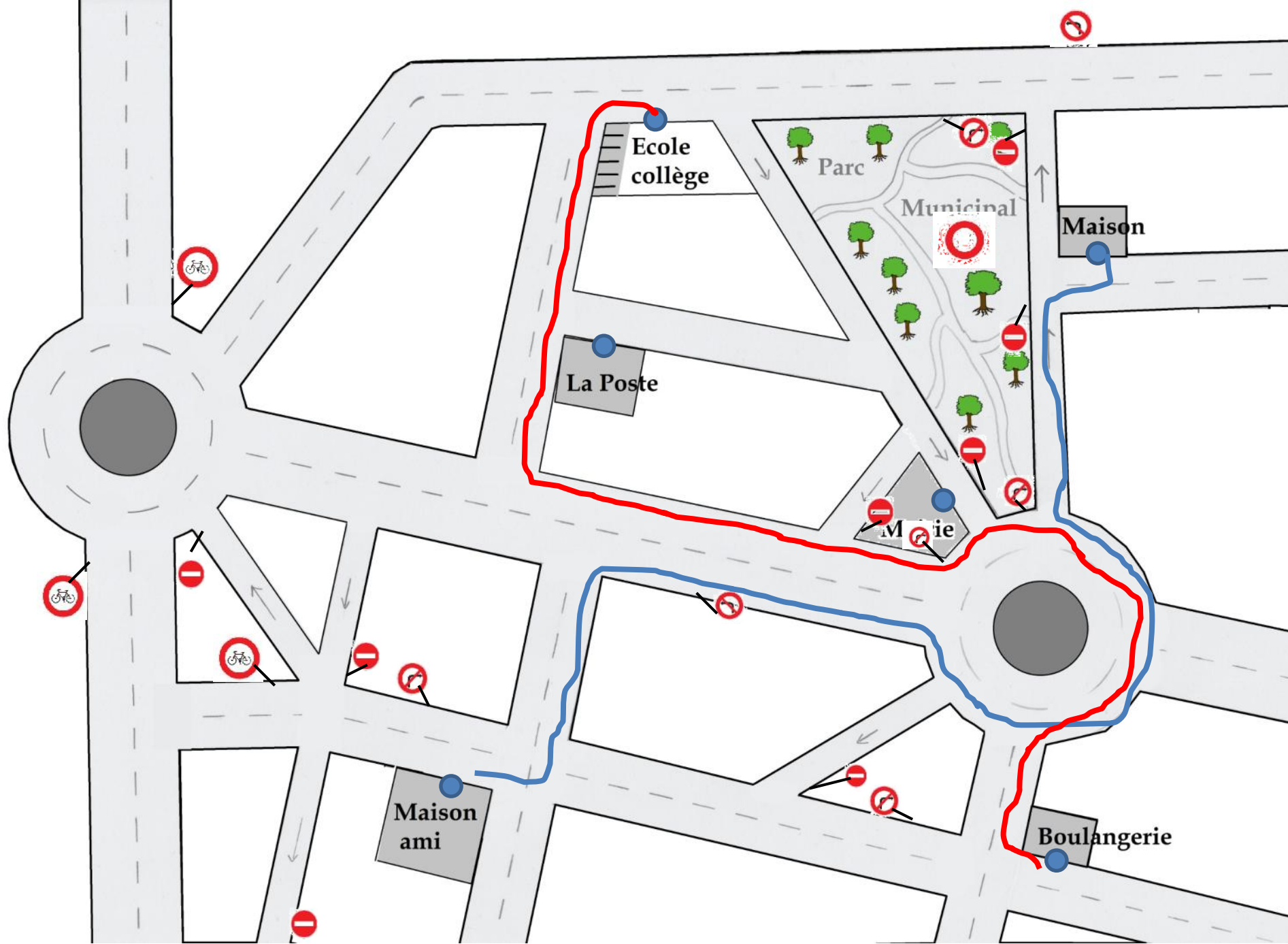


CRER2017 – 3^{ème} édition

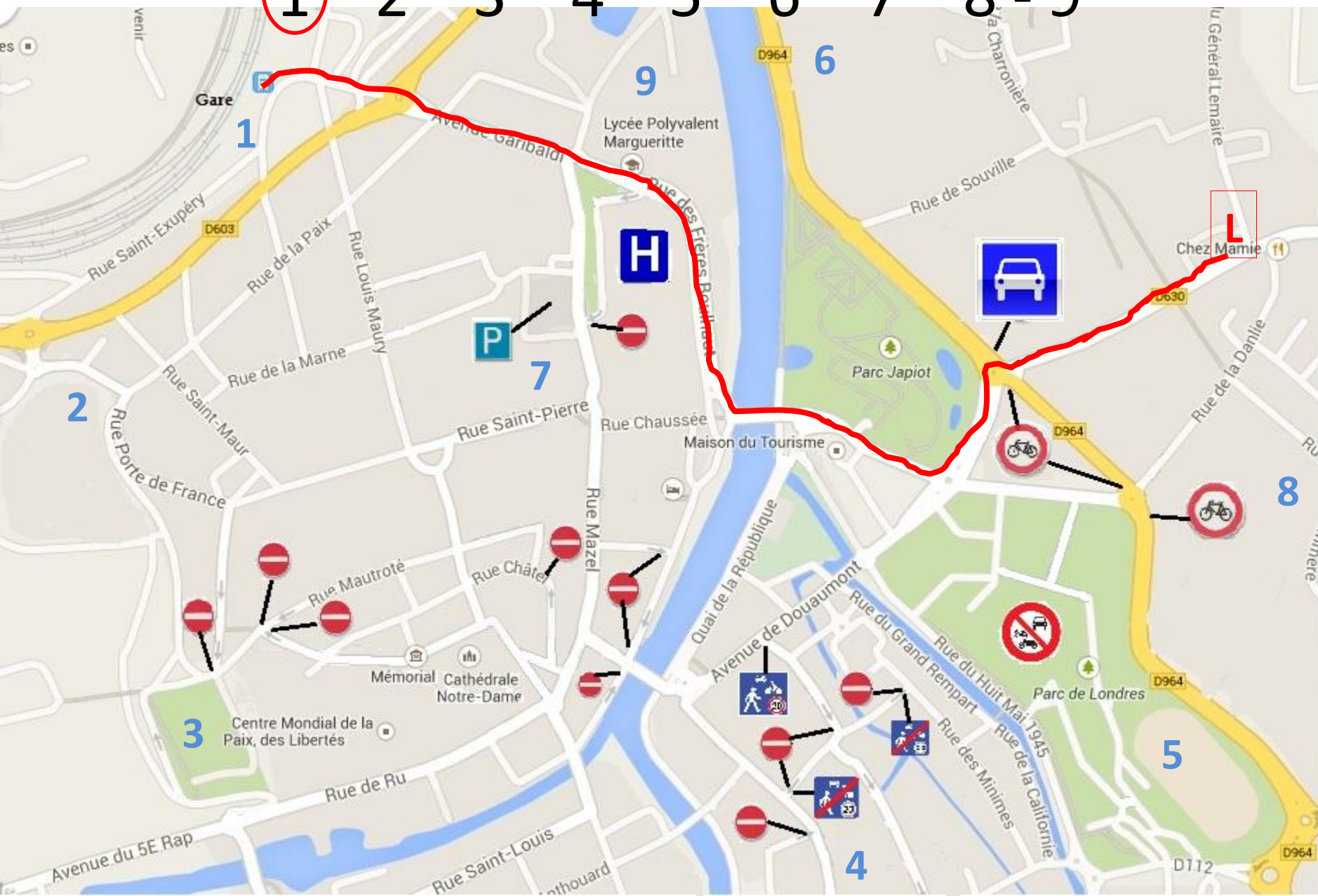
Lamotte-Beuvron (41)

Itinéraire



Léonie arrive au point

1 - 2 - 3 - 4 - 5 - 6 - 7 - 8 - 9



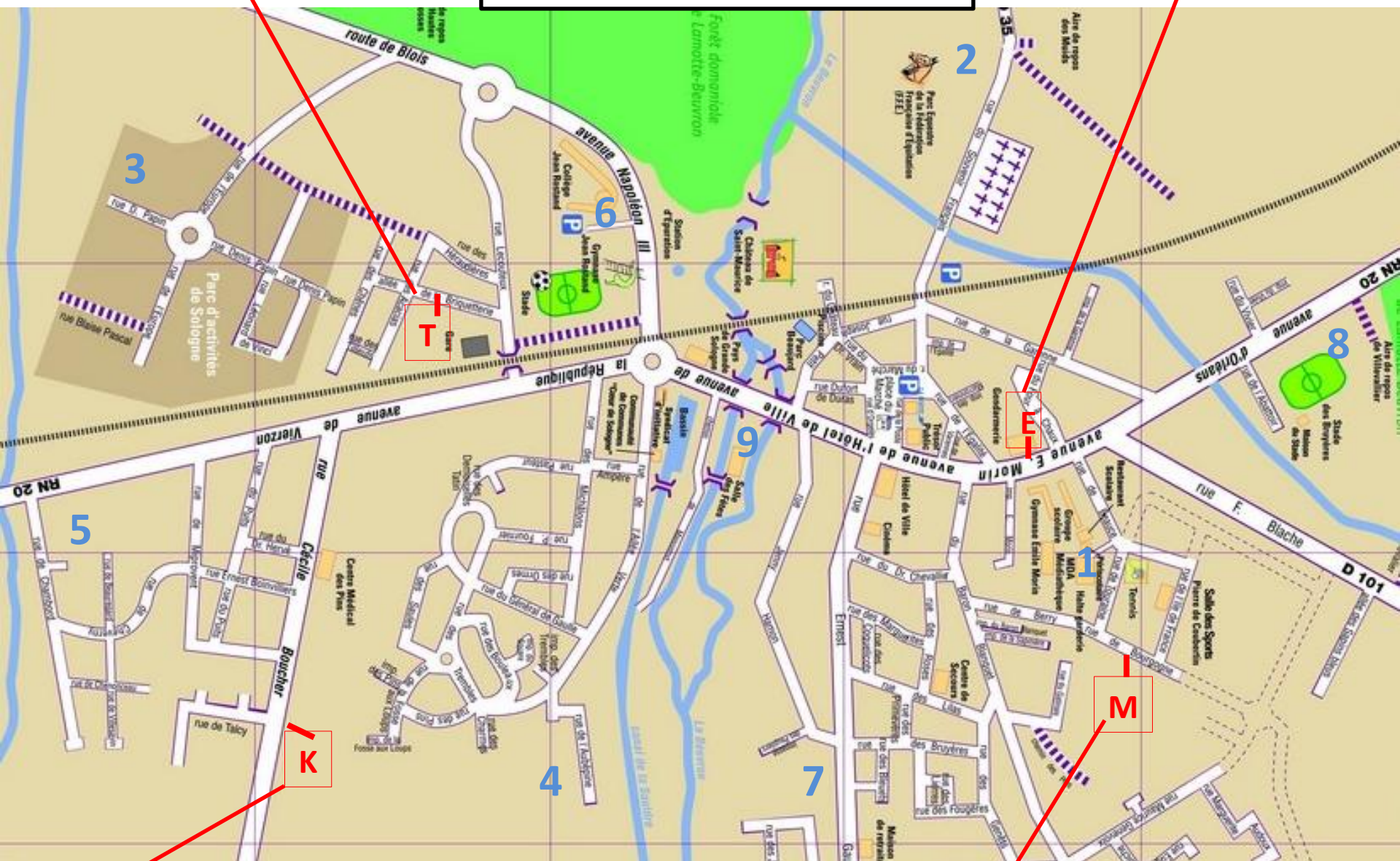
Timéo arrive au point

N° :

Ethan arrive au point

1-2-3-4-5-6-7-8-9

1-2-3-4-5-6-7-8-9



Kelya arrive au point

Maélyne arrive au point

1-2-3-4-5-6-7-8-9

1-2-3-4-5-6-7-8-9

E

Tracer l'itinéraire de Ethan à vélo

1. Aujourd'hui, Ethan va faire de l'équitation. Ses parents sont gendarmes. En sortant du parking de la gendarmerie, il prend à droite. Au carrefour suivant, tout proche, il prend encore à droite.
2. Il longe le parking qu'il laisse à sa gauche.
3. Il passe sous la voie ferrée.
4. Il passe devant le cimetière. Il sait qu'ensuite, il devra faire très attention pour traverser la route et entrer au Centre équestre.

Attention, dans les rues, on roule à droite

M

Tracer l'itinéraire de Maélyne à vélo

1. Maélyne habite rue de Bourgogne. Aujourd'hui, elle va faire des courses. En sortant de chez elle, elle part vers la gauche. Au premier carrefour qu'elle rencontre, elle continue tout droit.
2. Elle tourne à droite au carrefour suivant. Elle continue en laissant une rue à gauche
3. Au bout de la rue, elle part vers la gauche. Elle continue jusqu'au rond-point qu'elle traverse pour continuer presque tout droit.
4. Elle ne quitte pas la rue qu'elle suit jusqu'à la sortie de la ville où se trouve le supermarché.

Attention, dans les rues, on roule à droite

T

Tracer l'itinéraire de Timéo à vélo

1. Timéo habite derrière la gare. En sortant de chez lui, il part vers la droite. Ensuite, il prend encore à droite. Il passe alors sous la voie ferrée. Tout de suite après, il tourne à gauche.
2. Il traverse le rond-point, passe devant la salle des fêtes.
3. Devant la mairie, ils'étonne encore qu'elle s'appelle hôtel de ville.
4. Juste après la gendarmerie, il prend la première à droite pour arriver à la bibliothèque.

Attention, dans les rues, on roule à droite

K

Tracer l'itinéraire de Kelya à vélo

1. Kelya habite à la sortie près du centre médical. Elle part vers la ville (vers la droite) en faisant attention le long de la grande route. Au carrefour, elle prend à droite et passe devant la gare. Elle aperçoit Timéo qui ne la voit pas.
2. Au rond-point, elle prend la rue à gauche.
3. Elle passe sous la voie ferrée.
4. Il ne lui reste plus qu'à traverser la rue pour retrouver ses amies.

Attention, dans les rues, on roule à droite

La notation

- un point par étape franchie (donc 4 points par parcours).
- Oter un point (une seule fois par itinéraire) si le tracé en dehors du rond-point n'est pas distinct des autres tracés.
- Ajouter 1 point si le n° d'arrivée coché est bon.